

ESTUDE
em CASA 



Ensino Fundamental
Língua Portuguesa e Matemática

VOLUME 8
3º ANO



CIDADE DE
OSASCO
SECRETARIA DE EDUCAÇÃO


planeta
educação
transformando o aprendizado



Sondagem de Língua Portuguesa e Matemática

Escola: _____

3º ano

Turma: _____ Data: _____

Período: () manhã () tarde

Aluno (a): _____





Língua Portuguesa

LÍNGUA PORTUGUESA

1- Leia os textos “Você sabia?” que constam abaixo e relacione à ilustração correspondente. (1,0)

Você sabia?

Nunca devemos usar as mãos para cobrir a boca ao tossir ou espirrar.



Você sabia?

Usar máscaras pode conter a disseminação de vírus.



Você sabia?

O álcool capaz de desinfetar e matar o vírus do covid-19 deve ter concentração maior do que 70.



Fonte das Imagens: Pixabay.com

Leia a parlenda abaixo e responda às questões 2 e 3.

Um homenzinho torto
Já num caminho torto
Achou um dinheiro torto
Em cima de um pau torto
Comprou um gato torto
Que achou um rato torto
E viveram todos juntos
Numa casa torta.

Domínio popular

2- Nesta parlenda, há a repetição de qual palavra? (1,0)

3- Reescreva a parlenda do homenzinho evitando a repetição de palavras, isto é, substituindo a palavra torto por outras. (1,0)

4- Assinale a única alternativa onde a frase foi escrita com a separação entre as palavras corretamente. (1,0)

- A) Noinverno, a formiga secava seus grãos que havia juntadona primavera e noverão.
- B) No inverno, aformiga secava seus grãos que havia juntado naprimavera e no verão.
- C) Noinverno, a formiga secava seus grãosque havia juntado na primavera eno verão.
- D) No inverno, a formiga secava seus grãos que havia juntado na primavera e no verão.

5- Em qual alternativa a palavra precisa de um acento circunflexo? (1,0)

- A) Nos.
- B) Meses.
- C) Voce.
- D) Ceu.

6- Leia o texto. (1,0)




Fonte: <https://www1.folha.uol.com.br/mercado/2018/06/poluicao-dos-plasticos-e-tema-de-campanha-da-onu.shtml>.

Acesso em: 06/11/2020

Qual é a ideia central do cartaz?

- A) Divertir os leitores.
- B) Conscientizar os leitores.
- C) Vender sacolas plásticas.
- D) Divulgar o dia do meio ambiente.

7- Veja a tirinha abaixo e responda. (1,0)



Fonte: Pixabay.com

No primeiro quadrinho, encontramos a pontuação reticências: “os três pontos”. O que essa pontuação significa na fala do personagem?

- A) O personagem estava pensando, refletindo.
- B) O personagem falou: “reticências”.
- C) O personagem não sabia o que falar.
- D) Nenhuma das alternativas.

8- Observe a figura. (1,0)



Fonte: Imagem Office On-line esta Foto de Autor Desconhecido está licenciado em CC BY-NC-ND

O nome da figura acima é:

- A) Bruxaria.
- B) Branca de Neve.
- C) Bruxa.
- D) Bruxismo.

Leia o poema e responda a questão 9. (1,0)

<p>F É A LETRA DE FOLIA FLOR, FANFARRA, FANTASIA. É A LETRA DE FUTEBOL, FAROFA, FERA, FARINHA, FARELO, FILHO, FOLHINHA. DE FANTASMA E DE FAROL...</p>	
<p>Do Livro: Palavras muitas palavras Autora: Ruth Rocha 2013</p>	

9- Qual a letra que o poema destaca nas palavras? _____

10- Pontue as frases abaixo com os sinais de pontuação presentes. (1,0)

!	.	?	,
---	---	---	---

- ✓ Que vestido lindo_____
- ✓ O vestido é todo bordado e florido_____
- ✓ Como é o vestido de Laura_____
- ✓ O vestido de Laura é cheio de babados flores bordados e brilhos_____



Matemática

MATEMÁTICA

- 1- Sabemos que uma bicicleta tem duas rodas. Quantas rodas terão seis bicicletas juntas? (1,0)



Fonte: freepik.com

- A) 2 rodas.
B) 6 rodas.
C) 12 rodas.
D) 8 rodas.
- 2- Marta quer comprar uma camiseta e uma calça jeans que custarão R\$ 56,00 no total. Ela olhou na carteira e só tinha R\$ 18,00. Quantos reais estão faltando para ela comprar a camiseta e a calça? (1,0)

- A) R\$ 40,00.
B) R\$ 22,00.
C) R\$ 38,00.
D) R\$ 28,00.

- 3- Marina decidiu abrir o seu cofrinho de moedas. Ela guardou suas economias durante muito tempo. Como no cofre só havia moedas, o pai da menina trocou as moedas pelas seguintes cédulas. (1,0)

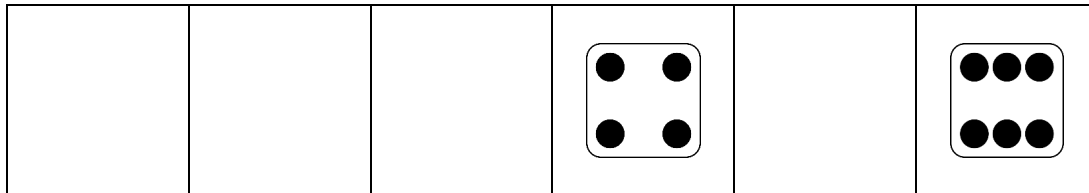


Fonte: <https://www.bcb.gov.br/dinheirobrasileiro/segunda-familia-cedulas.html> | Acesso em: 24/11/2020.

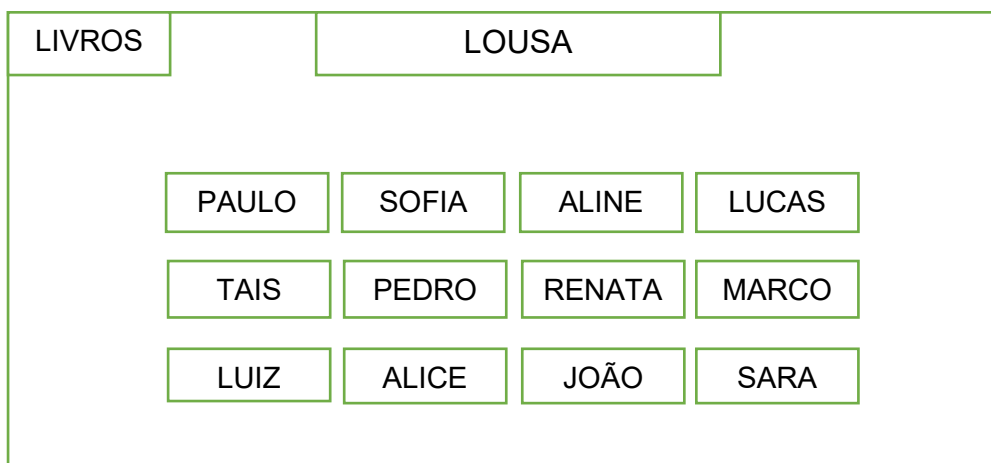
Assinale a alternativa que representa quanto Marina tinha guardado no cofre:

- A) Setenta reais.
B) Duzentos e cinco reais.
C) Setecentos reais.
D) Duzentos e cinquenta reais.

4- Preencha os espaços em branco com os diferentes lados do dado. (1,0)



5- Observe o desenho que Laís fez de uma sala de aula e incluiu seus colegas de turma. (1,0)



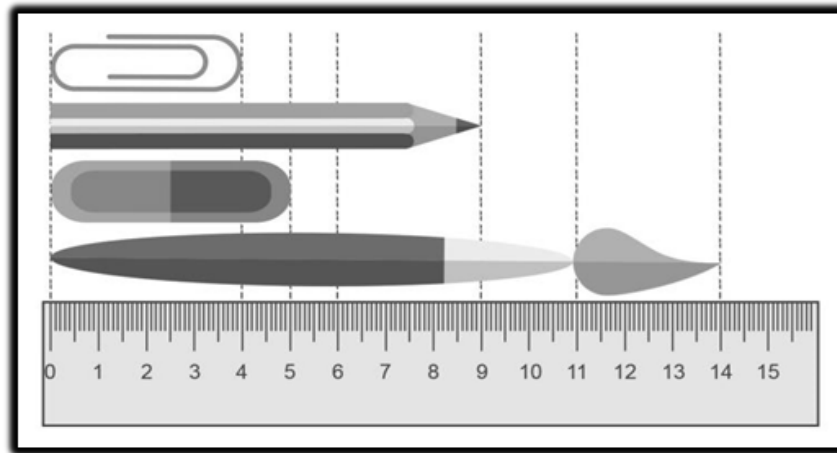
Identifique onde está Renata e responda:

A) Quem está à sua direita: _____

B) Quem está à sua esquerda: _____

C) Quem está à sua frente: _____

6- Observando a imagem abaixo. (1,0)



Fonte: Estúdio Miopia. 2016.

A partir da medição da régua, quantos centímetros o pincel é maior que o lápis?

7- Escreva quantas multiplicações têm como resultado os números contidos na ficha abaixo em uma tabuada de 0 a 10. (1,0)

28

Assinale a alternativa que indica essas multiplicações.

- A) 4×7 e 7×4 .
- B) 4×3 e 2×4 .
- C) 2×1 e 2×4 .
- D) 4×9 e 6×4 .

8- Uma loja de roupas masculinas colocou alguns produtos em promoção. Veja os preços. (1,0)



Fonte: Pixabay.com

Dona Júlia aproveitou a promoção e comprou alguns produtos para seu neto Eduardo. Ela comprou dois pares de tênis, duas camisetas e um boné. Quanto Dona Júlia gastou nessa compra?

- A) 272 reais.
- B) 127 reais.
- C) 145 reais.
- D) 372 reais.

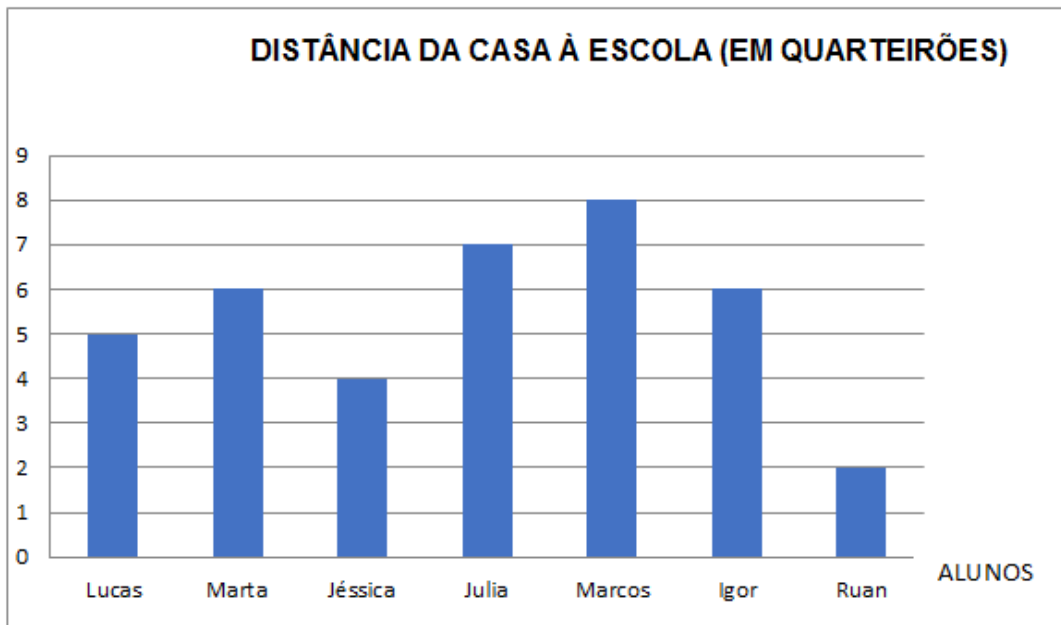
9- Qual sólido geométrico representa a ilustração abaixo? (1,0)



Fonte: Pixabay.com

- A) Esfera.
- B) Cilindro.
- C) Cone.
- D) Cubo.

10- Renato tem amigos que caminham até a escola. Ele pediu que eles contassem quantos quarteirões tem de distância, aproximadamente, entre sua casa e a escola. Com as respostas, ele construiu o gráfico seguinte. (1,0)



- A) Quem mora mais longe da escola? _____
- B) Quem mora mais perto da escola? _____
- C) Qual a distância da casa de Lucas à escola? _____
- D) Quantas pessoas responderam a pesquisa de Renato? _____

ESTUDE *em* CASA

Acesse a plataforma:
www.escolaemcasa.osasco.sp.gov.br



CIDADE DE
OSASCO
SECRETARIA DE EDUCAÇÃO


planeta
educação
transformando o aprendizado